

**Задания для обучающихся**

Время выполнения заданий – 90 минут

Время выполнения заданий тестового тура 30 минут

Время выполнения заданий теоретического тура 60 минут

**Максимальное количество баллов –100 баллов**

**Тестовый тур (20 баллов)**

**1. Установите соответствие между фамилией путешественника и сделанным им открытием (2 балла).**

Фамилия путешественника	Открытие
1. Геродот	А. Открыл путь в Индию вокруг Африки
2. Фернан Магеллан	Б. Достиг островов Центральной Америки
3. Христофор Колумб	В. Составил описание природы и народов Малой Азии, Балканского полуострова и Восточно-Европейской равнины
4. Васко да Гама	Г. Возглавлял первое кругосветное путешествие

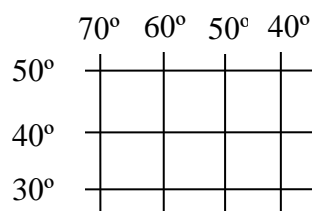
**2. Выберите правильный ответ. В каких полушариях может находиться данная часть градусной сетки? (1 балл)**

а) в Северном и Восточном;

б) в Южном и Западном;

в) в Северном и Западном;

г) в Южном и Восточном.



**3. Выберите правильный ответ. Какие из перечисленных островов можно посетить, путешествуя по Тихому океану? (2 балла).**

а) Мадагаскар;

д) Северная Земля;

б) Гренландия;

е) Новая Зеландия ;

в) Курильские;

ж) Азорские;

г) Кука;

з) Филиппинские.

**4. Укажите верное утверждение (1 балл)**

- а) 22 декабря Солнце находится в зените на экваторе;
- б) на подветренных склонах гор выпадает больше осадков;
- в) кучево - дождевые облака вызывают обильные ливневые осадки с грозовыми явлениями;
- г) причиной смены дня и ночи является вращение Земли вокруг Солнца.

**5. Выберите из перечисленных ветров те, которые являются сезонными (1 балл):**

- а) пассаты;
- б) муссоны;
- в) западные ветры;
- г) бризы.

**6. Внимательно прочитайте стихотворение И. Якимова. О каком природном процессе идёт речь в этом стихотворении? (1 балл)**

Хоть в это поверить не очень легко,  
Но Волги вода есть в реке Лимпопо.  
И, путешествуя облаком пара,  
Воды из Волги текут в Ниагару.  
Волги вода и в Байкале, и в Ниле.  
И, в Танганьике, и в нашей квартире.  
Значит, должны понимать это все мы:  
Реки – часть водной единой системы.  
Но, чтоб не быть с географией в споре,  
Волга впадает в Каспийское море.

**7. Выберите правильный ответ. Какое кругосветное путешествие будет короче? (1 балл)**

- а) по экватору;
- б) по 10°с.ш.;
- в) по 50° с.ш.;

г) по  $70^\circ$  с.ш..

**8. Выберите правильный ответ. К осадочным породам относится (1 балл):**

а) базальт;

б) гранит;

в) поваренная соль;

г) мрамор.

**9. Выберите правильный ответ. Какой из приборов не используется на метеоплощадках? (1 балл)**

а) гигрометр;

б) барометр;

в) альтиметр;

г) термометр.

**10. Выберите правильный ответ. Каков масштаб, если расстояние на местности, равное 200 м, на плане занимает отрезок 4 см. (1 балл)**

а) 1: 500

б) 1: 5000

в) 1: 50 000

г) 1:500 000

**11. Выберите правильный ответ. Какой климатообразующий фактор является главным? (1 балл)**

а) характер подстилающей поверхности;

б) угол падения солнечных лучей;

в) влияние океанических течений;

г) близость моря.

**12. Выберите правильный ответ. Как может изменяться географическая широта точки? (1 балл)**


а) от 0 до  $45^\circ$

б) от 0 до  $90^\circ$

в) от  $90^\circ$  до  $180^\circ$

г) от  $180^\circ$  до  $360^\circ$

**13. Выберите правильный ответ. В каком случае хвойный лес будет виден от ветряной мельницы? (1 балл)**



**14. Выберите правильный ответ. О какой особенности океана говорит девиз подлодки «Наутилус»: «Подвижный в неподвижном»? (1 балл)**

а) о постоянном движении воды;

б) о морских течениях;

в) о штормах;

г) о волнах.

**15. Укажите природный комплекс (1 балл):**

а) рельеф;

б) растения;

в) животные;

г) море.

**16. Какой материк пересекает начальный меридиан? (1 балл)**

а) Евразию;

б) Южную Америку;

в) Австралию;

г) Северную Америку.

**17. Выберите страны, в которых проживают более 1 млрд. человек (2 балла).**

а) Монако;

б) Индия;

в) Намибия;

г) Китай.

**Теоретический тур (80 баллов)**

**Задание № 1.** (по 2 балла за каждый правильный ответ, максимальная оценка – 24 балла)

Знаете ли вы физическую карту мира?

Заполните пропуски в таблице, выбрав необходимое из списка географических объектов.

Географические объекты: Анды, Нил, Мак-Кинли, Гоби, Эльбрус, Гималаи, Кавказ, Атакама, Джомолунгма, Монблан, Альпы, Аконкагуа, Кордильеры

Опишите объекты, которые вы не выбрали: вид объекта и на каком материке объект находится.

**Задание № 2.** (по 1 баллу за каждый правильный ответ, максимальная оценка – 13 баллов)


Отправьте этих животных на родину (напишите на каких материках они обитают):

Окапи, муравьед, пингвины Адели, ехидна, панда, страус нанду, вомбат, жираф, горилла, бизон, лама, кенгуру, сунс

**Задание № 3.** (2 балла за каждый правильный ответ + 3 балла дополнительно, если правильно заполнена вся таблица, максимальная оценка – 21 балл)

На приведенных рисунках вы видите изображения стран и рисунки, характеризующие эти страны.

Впишите в колонку «Страна» таблицы название страны, которое соответствует контуру. Впишите в колонку «Рисунок» таблицы номера рисунков так, чтобы образовались осмысленные пары «страна – рисунок». Поясните, почему вы так сделали, в колонке «Пояснение»



**Задание № 4.** (по 2 балла за каждый правильный ответ, максимальная оценка – 12 баллов)

Ниже приводятся стихотворные строки А. Усачева, И. Данилова, А. Шауки (египетский поэт), С. Беляева. Некоторые географические названия пропущены (напечатана линия). Напишите эти слова. Обратите внимание: строки должны рифмоваться.

1) Есть в Южной Америке горы - гиганты. Они называются коротко – \_\_\_\_\_.

2) На Земле нет выше места, чем вершина \_\_\_\_\_.

Заберись на \_\_\_\_\_ – И увидишь всё окрест.

3) В ожерелье снежных сопок,

В алом зареве рябин,

На заре российских тропок

Распростёрся \_\_\_\_\_.

Продуваемый норд-остом,

С горьким запахом волны,

распростёрся чудо-остров

На четыре стороны...

4) Как сладость надежды, нам влага его дорога.

Как амбра, смуглы и душисты его берега.

Пусть мутен и глинист – он райские реки затмил,  
святой, полноводный,  
извечный кормилец наш \_\_\_\_\_.

5) Известно всем: есть мыс Лопатка на полуострове \_\_\_\_\_.

6) Взревел мотор... Лечу под облаками.

А под крылом родного края ширь:

То синими целинными полями,

То белыми Саянскими хребтами меня встречает вешняя \_\_\_\_\_.

**Задание № 5.** ( по 2 балла за каждую правильно составленную пару, максимальная оценка – 10 баллов)

Поначалу монеты были очень примитивными и поэтому малопривлекательными. Но в XV веке на монеты стали расходовать больше металла, а для изготовления изображения на них, стали приглашать художников. Некоторые страны стали изображать на своих металлических деньгах животных.

Попробуйте определить, на монетах каких стран изображены следующие животные:

а) белый медведь;

б) бизон;

в) слон;

г) кенгуру и коала;

д) киви.

**Страны:** Конго, Австралийский Союз, США, Новая Зеландия, Норвегия